



Guía semestral evaluada: Ciencias:

NOMBRE: _____

1°Básico.

Objetivos a evaluar:

OAT 3: Adquirir un sentido positivo ante la vida, una sana autoestima y confianza en sí mismo, basada en el conocimiento personal, tanto de sus potencialidades como de sus limitaciones.

OA 6: Identificar y describir la ubicación y la función de los sentidos proponiendo medidas para protegerlos y para prevenir situaciones de riesgo.

1-Observa las imágenes y marca con X, si es una acción de higiene personal.

1pto c/u



2- Orden la secuencia de imágenes 1 - 2 - 3 En relación a los hábitos de higiene: 2ptos.



3- ¿Qué alimentos vas a comer :en mayor cantidad? Pinta: 1pto.

Frutas y
verduras

Dulces y
chocolates

Lácteos

Sándwiches

4- ¿Qué alimentos vas a comer en menor cantidad? Pinta: 1pto.

Frutas y
verduras

Dulces y
chocolates

Lácteos

Sándwiches

5- ¿Cómo debe ser tu colación? 1pto.

Saludables

Poco
saludables

6- Observa las imágenes y marca con una X las actividades físicas que ayudan a mantener sano nuestro cuerpo:

1pto c/u













7- Une con una línea el sentido y con su función:

1pto c/u



Audición

Nos permite conocer el sabor de los alimentos.



Olfato

Nos permite sentir el aroma de las flores.



Gusto

Permite sentir la temperatura de las cosas.



Tacto

Permite sentir el canto de los pajaritos.



Visión

Permite ver todas las cosas que nos rodean.

8.- Observa la imagen y escribe el nombre del sentido que utiliza cada niño/a:
1pto c/u






9.- Responde V si es verdadero F si es falso:

1pto c/u.

- a- _____ El sentido del olfato esta ubicado en los oidos.
- b- _____ Con el olfato reconocemos los olores y aromas.
- c- _____ Una forma de cuidar el sentido de la audición es taparse la nariz.
- d- _____ El sentido del gusto sirve para sentir los sabores.
- e- _____ Una forma de proteger los oidos es no escuchar música fuerte.
- f- _____ El sentido del tacto esta ubicado en todo el cuerpo.

10- Observa la imagen y dibuja el órgano de los sentidos que utilizas: 1pto c/u

11- Pon una X a las actitudes con las cuales cuidamos nuestros sentidos:
1pto c/u



12- Recorta y pega el órgano según el lugar donde se ubica, Luego escribe su nombre:
2ptos c/u

